

**ATIVIDADES COMPLEMENTARES DE ESTUDO – COVID 19**

**15º ROTEIRO**

**ESCOLA MUNICIPAL DR. VITÓRIO FRANKLIN**

**PROFESSORA: LUCI ANE FERNANDES TURMA: Sala de Recurso B - Grupo 1**

**COMPONENTES CURRICULARES: LÍNGUA PORTUGUESA E MATEMÁTICA.**

**PERÍODO DE REALIZAÇÃO: 7 a 11 DE JUNHO DE 2021**

**NOME : \_\_\_\_\_**

<b>O QUE VOCÊ VAI ESTUDAR:</b>	<ul style="list-style-type: none"><li>➤ <u>Língua Portuguesa</u>: Leitura e interpretação do texto O gatinho azul.</li><li>➤ <u>Matemática</u>: Operações de adição, ordem crescente, leitura e escrita de números.</li></ul>
<b>PARA QUE VAMOS ESTUDAR ESSES CONTEÚDOS?</b>	<ul style="list-style-type: none"><li>➤ Língua Portuguesa: Localizar no texto lido as informações explícitas.</li><li>➤ Matemática: Resolver adições com material dourado, colocar os números em ordem crescente e escrever o nome dos números.</li></ul>
<b>COMO VAMOS ESTUDAR OS CONTEÚDOS?</b>	<ul style="list-style-type: none"><li>➤ Lendo e respondendo as atividades propostas pela professora.</li></ul>

**LÍNGUA PORTUGUESA**

1- LEIA O TEXTO ABAIXO COM MUITA ATENÇÃO:

**O GATINHO AZUL**

O GATINHO VIU A LATA DE TINTA PERTO DA MESA.

DE REPENTE O RATINHO PASSOU LIGEIRO E SUBIU NA MESA.

O GATINHO FOI ATRÁS E DEU UM BOTE!

MAS... PLOFT!!!

O GATINHO CAIU DENTRO DA LATA DE TINTA AZUL.



ISABEL CRISTINA S. SOARES

2- ESCREVA ABAIXO O TÍTULO DO TEXTO.



**ATIVIDADES COMPLEMENTARES DE ESTUDO – COVID 19**

**15º ROTEIRO**

---

3- OS PERSONAGENS DO TEXTO SÃO:

( ) A LATA E O GATINHO

( ) O GATINHO E O RATINHO

( ) A LATA DE TINTA

4- O QUE TINHA PERTO DA MESA?

R: \_\_\_\_\_

5- QUEM PASSOU LIGEIRO?

R: \_\_\_\_\_

6- O QUE ACONTECEU COM O GATO?

R: \_\_\_\_\_

---

7- VOCÊ TEM ALGUM ANIMAL DE EXTIMAÇÃO? FAÇA O DESENHO DELE E ESCREVA O SEU NOME.

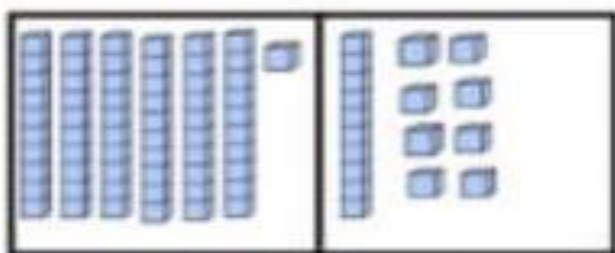


ATIVIDADES COMPLEMENTARES DE ESTUDO – COVID 19

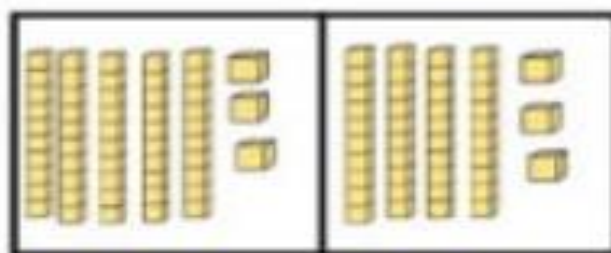
15º ROTEIRO

MATEMÁTICA

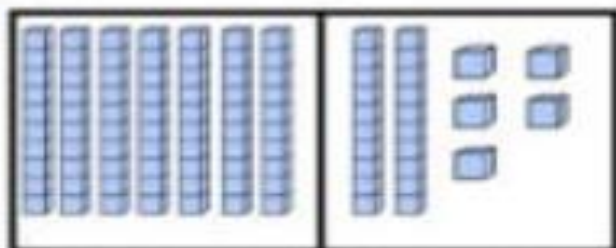
1-RESOLVA AS ADIÇÕES COM O MATERIAL DOURADO:



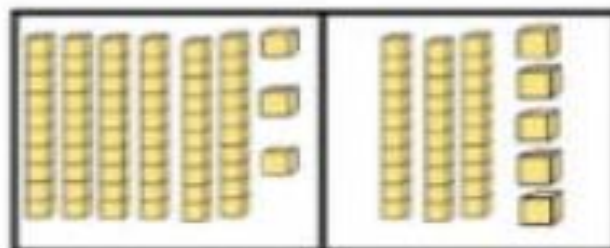
61 + 18 = □



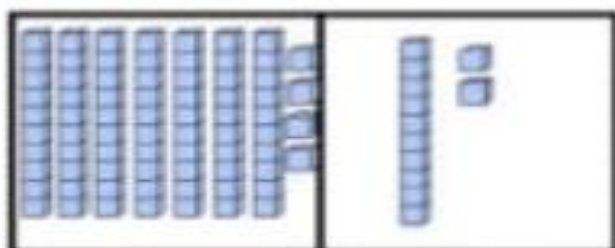
□ + □ = □



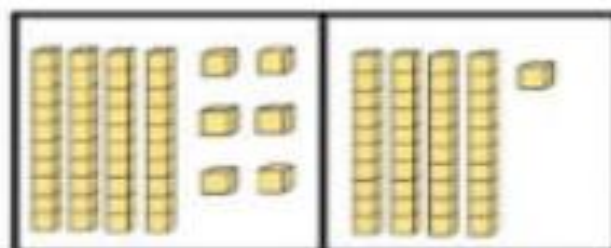
□ + □ = □



□ + □ = □



□ + □ = □

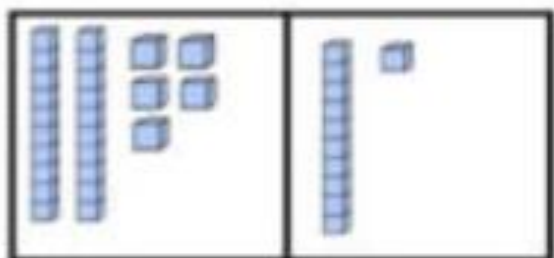


□ + □ = □

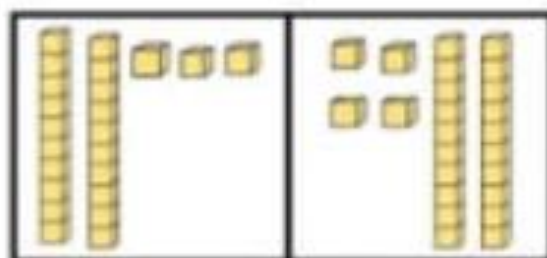


ATIVIDADES COMPLEMENTARES DE ESTUDO – COVID 19

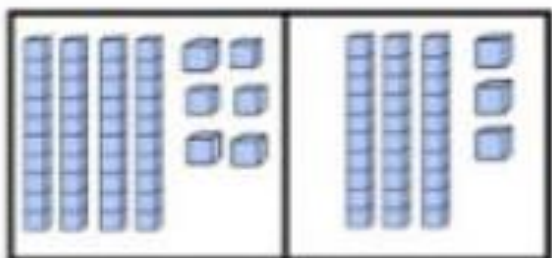
15º ROTEIRO



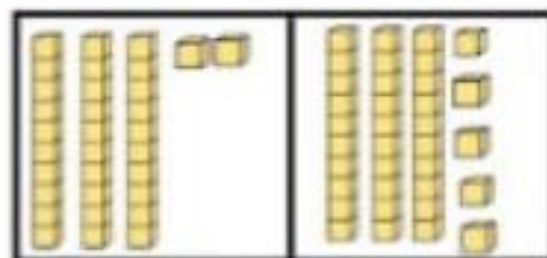
25 + 11 = □



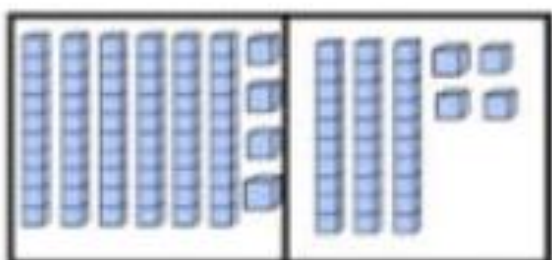
□ + □ = □



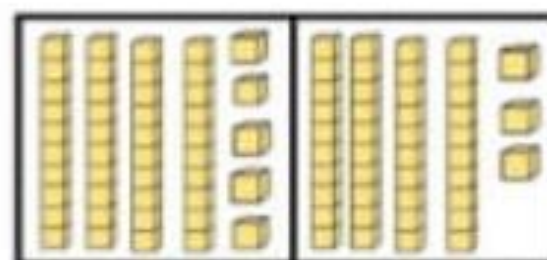
□ + □ = □



□ + □ = □



□ + □ = □



□ + □ = □

2- COLOQUE OS RESULTADOS DAS OPERAÇÕES ACIMA EM ORDEM CRESCENTE ( DO MENOR PARA O MAIOR).

---

---



**ATIVIDADES COMPLEMENTARES DE ESTUDO – COVID 19**

**15º ROTEIRO**

O número representado no quadro valor-de-lugar:

CENTENAS	DEZENAS	UNIDADE
<b>1</b>	<b>2</b>	<b>4</b>



ordem das centenas

ordem das dezenas

ordem das unidades

**CENTO E VINTE E QUATRO**



<b>C</b>	<b>D</b>	<b>U</b>	ESCREVA O NOME DOS NÚMEROS ABAIXO:
<b>1</b>	<b>1</b>	<b>2</b>	CENTO E DOZE
<b>1</b>	<b>1</b>	<b>1</b>	
<b>1</b>	<b>0</b>	<b>2</b>	
<b>1</b>	<b>3</b>	<b>2</b>	
<b>1</b>	<b>1</b>	<b>4</b>	
<b>1</b>	<b>3</b>	<b>3</b>	
<b>1</b>	<b>4</b>	<b>2</b>	